

Г 11-1

Всероссийская олимпиада школьников 2024-2025 учебный год
Школьный этап. География, 10-11 класс, задания
Время выполнения 90 мин. Максимальное кол-во баллов – 60

Бланк ответов
Тестовый тур

Матрица ответов

№ задания	Ответ	Кол-во баллов	№ задания	Ответ	Кол-во баллов
1	В	1	11	А	1
2	В	1	12	Испания	1
3	А Г Б В	1	13	В	1
4	А4 Б3 В7 Г6 А1	1	14	А2 Б6 В3 Г4	1
5	Г	1	15	В	1
6	Енисей	1	16	Эльбрус	1
7	А3 Б2 В1 Г4	1	17	Озеро Вивчи	1
8	А - фрукт. сад Б - железн. дорога В - вьшняя Г - кубарни	1	18	Человек. капибал	1
9	Б	1	19	Тайга	1
10	Ключевская сопка	1	20	5 2 3 4 1	1
	Всего			20	

Практический тур

Задание 1.

Определите туристический объект, его название и страну, в которой он находится. Запишите название туристического объекта и страну его нахождения.

Максимальное количество баллов – 10 баллов.

Туристический объект	Название туристического объекта	Страна нахождения туристического объекта	Количество баллов
1.	Каменные бабучи	Чили	2
2	Храм Василия Блаженного	Россия	2
3	Фукусима	Япония	2
4	Великая Китайская стена	Китай	2
5	Карнавал	Бразилия	2

Задание 2. Определите географический район по его характеристике.
Максимальное количество баллов – 10.

10

№	Вопрос	Ответы	Кол-во баллов
1.	Назовите географический район	Европейский Юг	2
2.	Какие два края входят в состав района?	Краснодарский Ставропольский	2
3.	Назовите город федерального значения	Севастополь	2
4.	Назовите отрасли специализации района	Электроэнергетика, АПК Машиностроение с/х, Туризм	2
5.	Назовите крупные города района	Краснодар, Ставрополь Ростов на Дону	2

Задание 3.

Рассчитайте ресурсообеспеченность стран. Используя данные из приведённой ниже таблицы, сравните ресурсообеспеченность стран пресной водой. Расположите страны в порядке уменьшения в них показателя ресурсообеспеченности пресной водой на душу населения, начиная со страны с наибольшим показателем.

Максимальное количество баллов – 10 баллов.

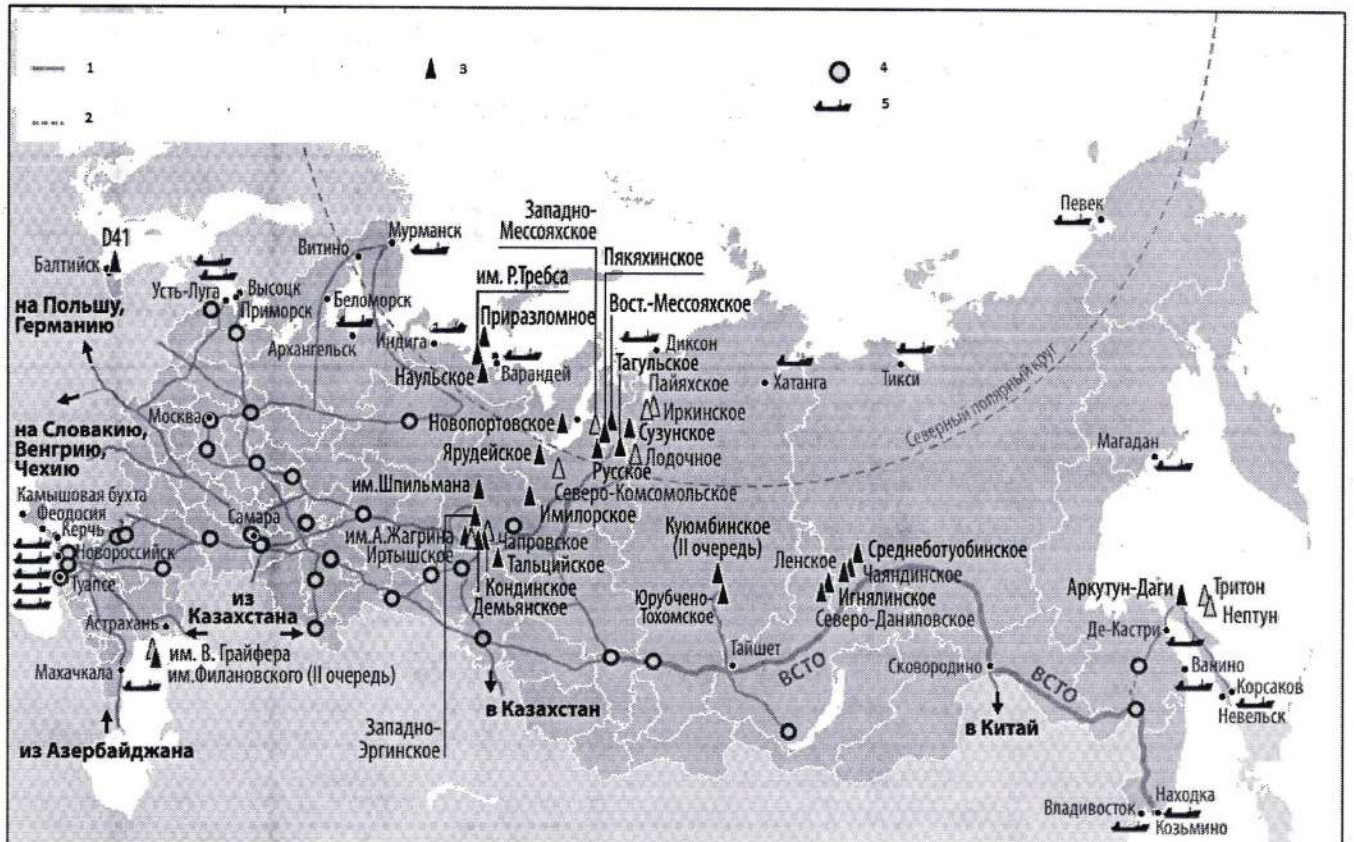
Расположите страны в порядке уменьшения в них показателя ресурсообеспеченности пресной водой на душу населения, начиная со страны с наибольшим показателем.

№	Страна	Ресурсообеспеченность
1.	Канада	76,31
2.	Венесуэла	47,1
3.	РФ	31,25
4.	Индия	1,5
5.	Мьянма	1

Задание 4.

Перед вами карта. Ответьте на вопросы, используя данную карту.

Максимальное количество баллов – 10 баллов.



1) Напишите название карты

Запасы и ресурсы нефти и газа

2) Напишите название условных обозначений в легенде карты

Цифра	Название	
1	Действ. нефтепроводы	1
2	Проектир. нефтепроводы	1
3	Нефть	1
4	Нефтеперерабатывающие заводы	2
5	Пунктыналива на морск. транспорте	1

3) Какими видами транспортировки можно перевозить данный продукт

Железнодорожный, водный, трубопроводный, автомобильный.

4) Назовите географический район – лидер по добыче данного ресурса

Западно-сибирский

1
/ 9

Г-9-1

Всероссийская олимпиада школьников 2024-25 учебный год
Школьный этап. География, 9 класс,
Время выполнения 90 мин. Максимальное кол-во баллов – 60
БЛАНК ОТВЕТОВ

№ задания	Ответ	Кол-во баллов	№ задания	Ответ	Кол-во баллов
1	Б	1	11	БГ	1
2	Г	1	12	А	1
3	Г	1	13	Г	1
4	Б	1	14	Б	
5	В Г	1	15	Б	1
6	В	1	16	Б	1
7	Б	1	17	В	1
8	А-5 В-1 D-3 Б-3 Г-4 Е-2	1	18	В	1
9	Нагорное	1	19	Б	1
10	В	1	20	Г	1
	ИТОГО			19	

Тестовый тур

Практический тур

Задание 1.

Ответы:

- 5 ²
- 1450 тыс. чел. ²
- 1954 г. ²

Максимальное число баллов за задание - 6

Задание 2.

Ответы:

- 42 ²
- 14 ²
- 3 – Эстония
7 – Дания
8 – Мтвва ¹
14 – Германия ⁵

Максимальное число баллов за задание – 8

Задание 3.

За каждый правильный ответ по 2 балла

= 9-2

1.	Пик Гиндугошн	2
2.	Каспийское море	2
3.	Озеро Виктория	2
4.	Саяно-алтайский	2
5.	Бурханга	2

10

Максимальное число баллов за задание – 10

Задание 4.

№	На какой материке обитают эти животные (0,5 балла)	Какое место занимает этот материк по площади среди материков (0,5 балла)	В каком полушарии находится этот материк (по 0,5 за каждое)	В каких климатических поясах материк расположен (по 0,5 за каждый правильный ответ).	Всего баллов
1	Северная Америка 0,5	3 0,5	Северное 0,5	Арктический, субарктический, умеренный, субтропический, тропический	2,5
2	Южная Америка 0,5	4 0,5	Южное 0,5	Экваториальный, субэкваториальный, тропический, субтропический, умеренный	2,5
3	Евразия 0,5	1 0,5	Северное 0,5	Арктический, субарктический, умеренный, субтропический, тропический, субэкваториальный	3

Максимальное число баллов за задание – 16

12,5

Г-8-18

Всероссийская олимпиада школьников 2024-2025 учебный год
Школьный этап. География, 8 класс
Время выполнения 60 мин. Максимальное кол-во баллов – 48
БЛАНК ОТВЕТОВ

Тестовый тур

№ задания	Ответ	Кол-во баллов	№ задания	Ответ	Кол-во баллов
1	ВГ	1	10	А	1
2	В,	1	11	Ладожское	1
3	ВГВ	1	12	В	1
4	Б	1	13	ГБ	1
5	Тихий океан		14	Б	
6	Б	1	15	АВГ	1
7	ВА	1	16	Г	1
8	А-5 Б-5 В-1 Г-4 Д-3 Е-2	1	17	А	1
9	А-2 Б-3 В-4 Г-1	1	18	Б	1
Всего				16	

Практический тур

Задание 1. Максимальное количество баллов -10

t °C января	t °C июля	Годовая амплитуда температур	Количество осадков за год	Месяц с наибольшим количеством осадков	Определите минимальное количество осадков за год	Единица измерения количества осадков
-21 1	+15 1	15-(-21) 36 1	500 мм 1	август	январь	миллиметр 1

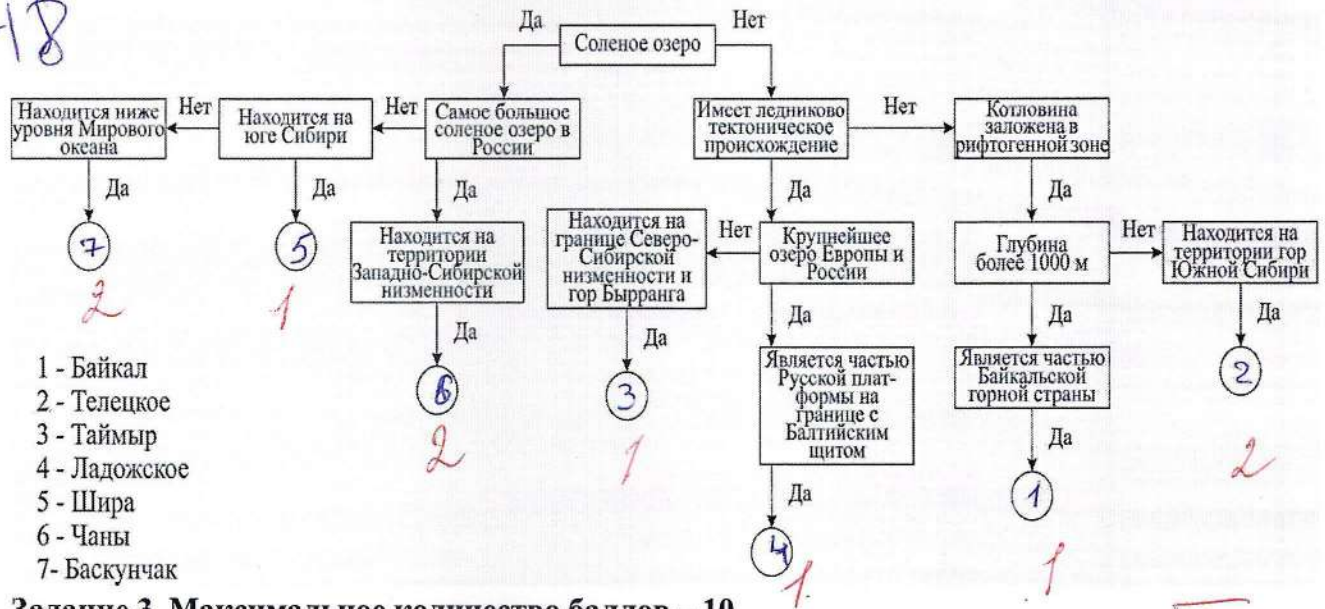
Задание 2.

Впишите в кружки цифры, соответствующие названиям озёр.

5

Максимальное количество баллов – 10

F-8-18



Задание 3. Максимальное количество баллов – 10

Тип рельефа	Рельефообразующие процессы		Территория России с преобладающим типом рельефа
	Номер описания	Название процесса	
Эоловый рельеф	3 0,5	абразия	карское море
Флювиальный рельеф	5	дефляция абразия	побережье Балтийского моря
Мерзлотный рельеф	3 0,5	экзарация	Якутия 2
Прибрежный рельеф	1 0,5	водная эрозия	побережье каспийского моря
Ледниковый рельеф	2 0,5	термокарст дефляция	Карелия 1

5

Г-З-5

Всероссийская олимпиада школьников 2024-2025 учебный год
Школьный этап. География, 7 класс
Время выполнения 60 мин. Максимальное кол-во баллов –38
БЛАНК ОТВЕТОВ

Тестовый тур

№ задания	Ответ	Кол-во баллов	№ задания	Ответ	Кол-во баллов
1	В	1	10	А	1
2	А	1	11	В, Б, Г, А	1
3	А, Г, В, Д	0	12	Б	1
4	А	1	13	Г ^{1, 2, 3, 4, 5, 6, 7, 8, 9, 10}	0
5	В	1	14	Г	1
6	Г, В, А, Б	1	15	Г	1
7	В	1	16	А	1
8	1-Б, 2-Г, 3-В, 4-А	0	17	В	1
9	Г	1	18	А	1
Всего баллов					15

Практический тур

Задание № 1.

Матрица ответов

1	2	3	4	5	6	7	8	9	10
З	В	А	Б	Г	Е	Ж	И	К	Л
1	1	1	1	1	1	1	1	1	1

Задание № 2.

Вставьте недостающую информацию о географических приборах в соответствующую колонку. Максимальное количество баллов, которое можно набрать –10.

Прибор	Название	Для чего служит?

10

Г-7-5

1. 	Барометр	Для измерения давления ✓
2. 	Курвиметр	Длина кривых линий ✓
3. 		Прибор для наглядной демонстрации годового движения Земли вокруг Солнца и суточного вращения Земли вокруг своей оси.
4. 	Гигрометр психрометрический	влажность воздуха ✓
5. 	Флюг рометр	Прибор для измерения направления ветра. ✓
6. 	Осадкомер	Куврек в качестве измерения высоты осадков осадков ✓

Г-7-5

10

7.		анемометр	Прибор для измерения скорости ветра.
8.		Сейсмограф	прибор для измерения земной активности.
9.		Компас	Прибор, предназначенный для определения сторон горизонта и состоящий из намагниченной стрелки, всегда показывающей на север.
10.		Лазерный дальномер	прибор для измерения расстояния

10

10

90

F-6-5

Всероссийская олимпиада школьников 2024-2025 учебный год
Школьный этап. География, 6 классы
Время выполнения 45 мин. Максимальное количество баллов – 31

БЛАНК ОТВЕТОВ

Тестовый тур

№ задания	Ответ	Кол-во баллов	№ задания	Ответ	Кол-во баллов
1	Б	1	9	Б	1
2	Г	1	10	В	1
3	Г	1	11	К северный ^{ледовитый}	1
4	В		12	Г	1
5	план местности	1	13	Б	1
6	В	1	14	В	
7	Г	1	15	Б	1
8	А	1			
Всего баллов					13

Практический тур

Задание 1. Максимальное количество баллов – 10.

1) Подпишите условные обозначения плана местности, обозначенные цифрами

Цифра	Название
1	Железнодорожный мост 10
2	Колодезь 10
3	Речной лес 10
4	Ветряные мельницы 10
5	подняк 10
6	мост 10

2) Что производит завод, изображенный на плане? сахар 10

3) Какой тип дороги соединяет железнодорожную станцию с домиком лесника?
мост 10

4) 4) Какой тип моста соединяет автомобильную дорогу?
железнодорожный

80

Задание 2. Максимальное количество баллов – 6 баллов.

- Самый пустынный материк (без учета снежных пустынь Антарктиды). Африка
- Материк с самой большой численностью населения. Евразия
- Материк, не имеющий коренного населения. Антарктида

Г-6-5

4. Материк – колыбель человечества.
5. Материк, где расположен самый высокий водопад в мире.
6. Материк, где расположен самый большой в мире речной каньон.

№	Материк	
1	Африка ←	10
2	Евразия	10
3	Антарктида	10
4	Австралия ←	10
5	Южная Америка	10
6	Северная Америка	10

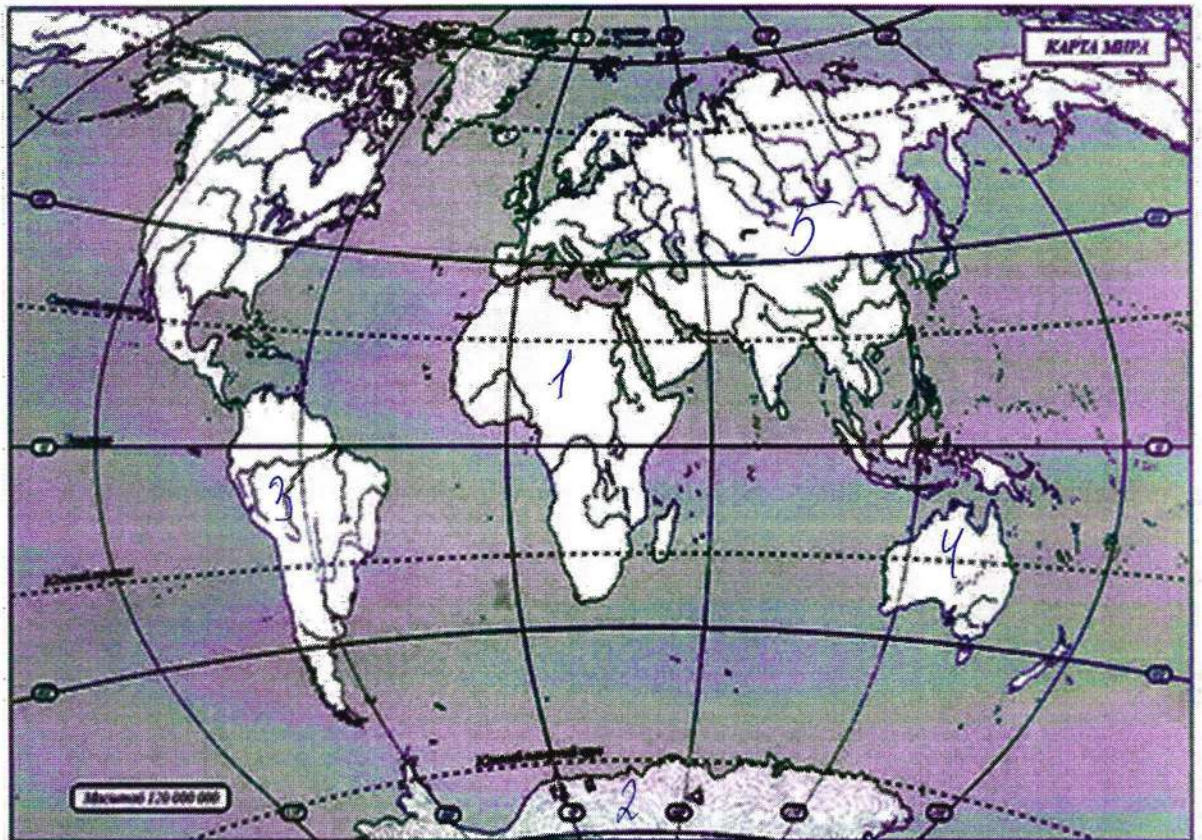
—
6

Г-5-6

Всероссийская олимпиада школьников 2024-2025 учебный год
Школьный этап. География, 5 класс,
Время выполнения 45 мин. Максимальное кол-во баллов – 20
БЛАНК ОТВЕТОВ

№ задания	Ответ	Кол-во баллов	№ задания	Ответ	Кол-во баллов
1	А	1	9	Б	1
2	Явления погоды.	1	10	В	
3	Б	1	11	Г	1
4	А	1	12	В	1
5	В		13	А	1
6	широты		14	В	1
7	В	1	15	В	1
8	А	1			
Всего баллов					

Практический тур



Всероссийская олимпиада школьников 2024-2025 учебный год
Школьный этап. География, 10-11 класс, задания
Время выполнения 90 мин. Максимальное кол-во баллов – 60

Бланк ответов
Тестовый тур

Матрица ответов

№ задания	Ответ	Кол-во баллов	№ задания	Ответ	Кол-во баллов
1	В	1	11	А	1
2	В	1	12	Испания	1
3	А П Б В	1	13	В	1
4	А4); Б3); В7); Р6); ДД.	1	14	А2); Б6); В3); Р4	1
5	Р	1	15	В	1
6	Енисей	1	16	Элобрус	1
7	А3); Б2); В1); Р4).	1	17	оз. Виви	1
8	А - фруктовый сад; Б - железная дорога; В - станция; Р - кубарная	1	18	Человеческий капитал	1
9	Б	1	19	Тайга	1
10	Ключевская Сопка	1	20	52413	1
	Всего			20	

Практический тур

Задание 1.

Определите туристический объект, его название и страну, в которой он находится. Запишите название туристического объекта и страну его нахождения.

Максимальное количество баллов – 10 баллов.

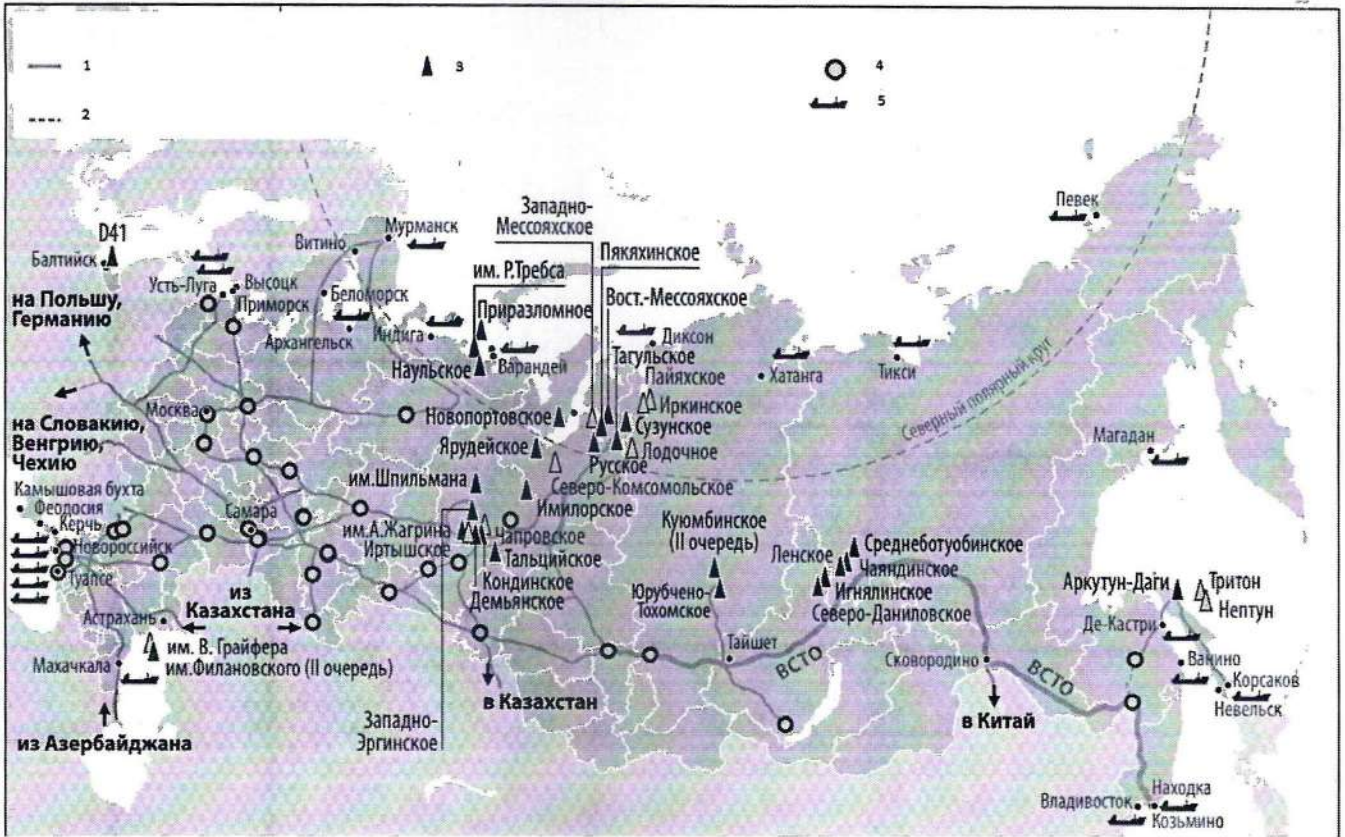
Туристический объект	Название туристического объекта	Страна нахождения туристического объекта	Количество баллов
1.	Статуи Моаи	Чили	2
2	Кремль (Храм В. Блаженного)	Россия	2
3	Вулкан Фудзиема	Япония	2
4	Великая китайская стена	Китай	2
5	Карнавал	Бразилия	2

10

Задание 2. Определите географический район по его характеристике.

Максимальное количество баллов – 10.

1-10-3



1) Напишите название карты

Нефтегазовая промышленность 1

2) Напишите название условных обозначений в легенде карты

Цифра	Название
1	нефтепровода 1
2	Северный полярный круг
3	добыча добыча нефти 1
4	центры переработки нефти 1
5	порты экспорта нефти 1

3) Какими видами транспортировки можно перевозить данный продукт

Нефтепровод, ж/д, автомоб., водный 3

4) Назовите географический район – лидер по добыче данного ресурса

Западно-Сибирский 1

F-10-3

№	Вопрос	Ответы	Кол-во баллов
1.	Назовите географический район	Южная Россия	2
2.	Какие два края входят в состав района?	Краснодарский край Ставропольский край	2
3.	Назовите город федерального значения	Владикавказ	2
4.	Назовите отрасли специализации района	сельское хозяйство добыча природных ископаемых, АПК	2
5.	Назовите крупные города района	Ростов-на-Дону, Махачкала, Краснодар	2

10

Задание 3.

Рассчитайте ресурсообеспеченность стран. Используя данные из приведённой ниже таблицы, сравните ресурсообеспеченность стран пресной водой. Расположите страны в порядке уменьшения в них показателя ресурсообеспеченности пресной водой на душу населения, начиная со страны с наибольшим показателем.

Максимальное количество баллов – 10 баллов.

Расположите страны в порядке уменьшения в них показателя ресурсообеспеченности пресной водой на душу населения, начиная со страны с наибольшим показателем.

№	Страна	Ресурсообеспеченность
1.	Камада 1	76,3 1
2.	Венесуэла 1	47,1 1
3.	РФ 1	31,2 1
4.	Англия 1	1,4 1
5.	Мексика 1	1 1

10

Задание 4.

Перед вами карта. Ответьте на вопросы, используя данную карту.

Максимальное количество баллов – 10 баллов.